

## 5 Gegenseitige Lage von Geraden - zueinander parallele Geraden

LS 10 gelbe Ausgabe / S. 83 - 84

### 1. Aufgabe:

• Die Geraden sind zueinander parallel

$$\text{II } t \cdot \begin{pmatrix} 5 \\ 2 \\ -1 \end{pmatrix} = \begin{pmatrix} -15 \\ -6 \\ 3 \end{pmatrix} \Rightarrow \begin{array}{l} 5t = -15 \Leftrightarrow t = -3 \\ 2t = -6 \Leftrightarrow t = -3 \\ -t = 3 \Leftrightarrow t = -3 \end{array}$$

d.h. g || i

• Die Geraden sind nicht zueinander parallel

$$\text{I } t \cdot \begin{pmatrix} 5 \\ 2 \\ -1 \end{pmatrix} = \begin{pmatrix} 1 \\ 1 \\ 2 \end{pmatrix} \Rightarrow \begin{array}{l} 5t = 1 \Leftrightarrow t = \frac{1}{5} \\ 2t = 1 \Leftrightarrow t = \frac{1}{2} \\ -t = 2 \Leftrightarrow t = -2 \end{array}$$

d.h. Widerspruch; daher g \not\parallel h

$$\text{V } t \cdot \begin{pmatrix} 1 \\ 1 \\ 2 \end{pmatrix} = \begin{pmatrix} 5 \\ 5 \\ 10 \end{pmatrix} \Rightarrow \begin{array}{l} t = 5 \\ t = 5 \\ 2t = 10 \Leftrightarrow t = 5 \end{array}$$

d.h. h || j

$$\text{III } t \cdot \begin{pmatrix} 5 \\ 2 \\ -1 \end{pmatrix} = \begin{pmatrix} 5 \\ 5 \\ 10 \end{pmatrix} \Rightarrow \begin{array}{l} 5t = 5 \Leftrightarrow t = 1 \\ 2t = 5 \Leftrightarrow t = \frac{5}{2} \\ -t = 10 \Leftrightarrow t = -10 \end{array}$$

d.h. Widerspruch; daher g \not\parallel j

$$\text{IV } t \cdot \begin{pmatrix} 1 \\ 1 \\ 2 \end{pmatrix} = \begin{pmatrix} -15 \\ -6 \\ 3 \end{pmatrix} \Rightarrow \begin{array}{l} t = -15 \\ t = -6 \\ 2t = 3 \Leftrightarrow t = \frac{3}{2} \end{array}$$

d.h. Widerspruch; daher h \not\parallel i

$$\text{VI } t \cdot \begin{pmatrix} -15 \\ -6 \\ 3 \end{pmatrix} = \begin{pmatrix} 5 \\ 5 \\ 10 \end{pmatrix} \Rightarrow \begin{array}{l} -15t = 5 \Leftrightarrow t = -\frac{1}{3} \\ -6t = 5 \Leftrightarrow t = -\frac{5}{6} \\ 3t = 10 \Leftrightarrow t = \frac{10}{3} \end{array}$$

d.h. Widerspruch; daher i \not\parallel j

### 2. Aufgabe:

$$\text{a) } \cdot s \cdot \begin{pmatrix} 2 \\ 4 \\ 1 \end{pmatrix} = \begin{pmatrix} 4 \\ 8 \\ 2 \end{pmatrix} \Rightarrow \begin{array}{l} 2s = 4 \Leftrightarrow s = 2 \\ 4s = 8 \Leftrightarrow s = 2 \\ s = 2 \end{array} \left. \vphantom{\begin{array}{l} 2s = 4 \\ 4s = 8 \\ s = 2 \end{array}} \right\} \text{Die Richtungsvektoren sind Vielfache voneinander.}$$

• Punktprobe von P(1|2|3) in h:  $\begin{pmatrix} 3 \\ 6 \\ 4 \end{pmatrix} + s \cdot \begin{pmatrix} 4 \\ 8 \\ 2 \end{pmatrix} = \begin{pmatrix} 1 \\ 2 \\ 3 \end{pmatrix} \Leftrightarrow s \cdot \begin{pmatrix} 4 \\ 8 \\ 2 \end{pmatrix} = \begin{pmatrix} -2 \\ -4 \\ -1 \end{pmatrix}$

$$\left. \begin{array}{l} \text{I } 4s = -2 \Leftrightarrow s = -\frac{1}{2} \\ \text{II } 8s = -4 \Leftrightarrow s = -\frac{1}{2} \\ \text{III } 2s = -1 \Leftrightarrow s = -\frac{1}{2} \end{array} \right\} \underline{\underline{P \in h}}$$

d.h. g und h sind zueinander parallel und identisch.

$$\text{b) } \cdot s \cdot \begin{pmatrix} 1 \\ 3 \\ 9 \end{pmatrix} = \begin{pmatrix} \frac{1}{3} \\ 1 \\ 3 \end{pmatrix} \Rightarrow \begin{array}{l} s = \frac{1}{3} \\ 3s = 1 \Leftrightarrow s = \frac{1}{3} \\ 9s = 3 \Leftrightarrow s = \frac{1}{3} \end{array} \left. \vphantom{\begin{array}{l} s = \frac{1}{3} \\ 3s = 1 \\ 9s = 3 \end{array}} \right\} \text{Die Richtungsvektoren sind Vielfache voneinander.}$$

• Punktprobe von Q(0|7|3) in h:  $\begin{pmatrix} 6 \\ 2 \\ 0 \end{pmatrix} + s \cdot \begin{pmatrix} 1 \\ 3 \\ 9 \end{pmatrix} = \begin{pmatrix} 0 \\ 7 \\ 3 \end{pmatrix} \Leftrightarrow s \cdot \begin{pmatrix} 1 \\ 3 \\ 9 \end{pmatrix} = \begin{pmatrix} -6 \\ 5 \\ 3 \end{pmatrix}$

$$\left. \begin{array}{l} \text{I } \frac{1}{3}s = -6 \Leftrightarrow s = -18 \\ \text{II } s = 5 \\ \text{III } 3s = 3 \Leftrightarrow s = 1 \end{array} \right\} \underline{\underline{Q \notin h}}$$

d.h. g und h sind zueinander parallel und verschieden.

### 1. Aufgabe:

c)  $s \cdot \begin{pmatrix} 1 \\ 2 \\ -1 \end{pmatrix} = \begin{pmatrix} -1 \\ -1 \\ 0,5 \end{pmatrix} \Rightarrow \left. \begin{array}{l} 2s = -1 \Leftrightarrow s = -\frac{1}{2} \\ 2s = -1 \Leftrightarrow s = -\frac{1}{2} \\ -s = \frac{1}{2} \Leftrightarrow s = -\frac{1}{2} \end{array} \right\} \text{Die Richtungsvektoren sind Vielfache voneinander.}$

• Da  $g$  und  $h$  denselben Stützpunkt  $R(1|1|0)$  besitzen, gilt:

$g$  und  $h$  sind zueinander parallel und identisch.

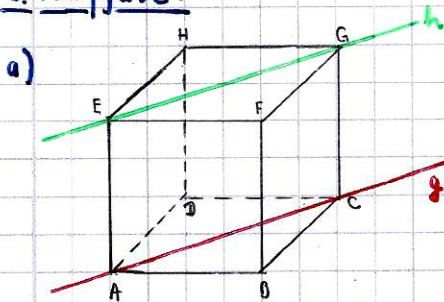
d)  $s \cdot \begin{pmatrix} 8 \\ -7 \\ 0 \end{pmatrix} = \begin{pmatrix} -4 \\ 3,5 \\ 0 \end{pmatrix} \Rightarrow \left. \begin{array}{l} 8s = -4 \Leftrightarrow s = -\frac{1}{2} \\ -7s = \frac{7}{2} \Leftrightarrow s = -\frac{1}{2} \\ 0s = 0 \Leftrightarrow 0 = 0 \end{array} \right\} \text{Die Richtungsvektoren sind Vielfache voneinander.}$

• Punktprobe mit  $S(3|9|8)$  in  $h$ :  $\begin{pmatrix} 0 \\ 4 \\ 0 \end{pmatrix} + s \cdot \begin{pmatrix} -4 \\ 3,5 \\ 0 \end{pmatrix} = \begin{pmatrix} 3 \\ 9 \\ 8 \end{pmatrix} \Leftrightarrow s \cdot \begin{pmatrix} -4 \\ 3,5 \\ 0 \end{pmatrix} = \begin{pmatrix} 3 \\ 5 \\ 8 \end{pmatrix}$

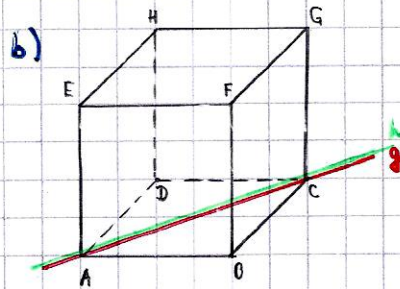
$\left. \begin{array}{l} \text{I} \quad -4s = 3 \Leftrightarrow s = -\frac{3}{4} \\ \text{II} \quad \frac{7}{2}s = 5 \Leftrightarrow s = \frac{10}{7} \\ \text{III} \quad 0s = 8 \end{array} \right\} s \notin h$

d.h.  $g$  und  $h$  sind zueinander parallel und verschieden.

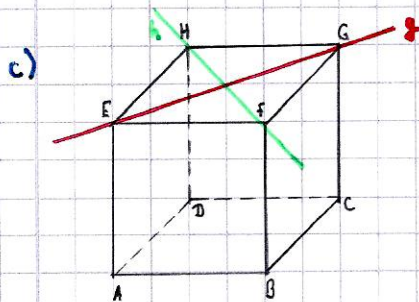
### 3. Aufgabe:



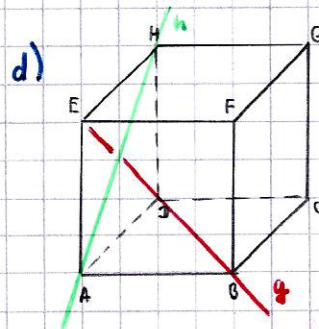
$g$  und  $h$  sind zueinander parallel und verschieden.



$g$  und  $h$  sind zueinander parallel und identisch.



$g$  und  $h$  sind nicht zueinander parallel und schneiden sich.



$g$  und  $h$  sind nicht zueinander parallel und schneiden sich nicht; d.h. sie sind windschief.

#### 4. Aufgabe / Test:

$$s \cdot \begin{pmatrix} 1 \\ 3 \\ -1 \end{pmatrix} = \begin{pmatrix} -2 \\ -3 \\ 1 \end{pmatrix} \Rightarrow \begin{cases} 1s = -2 & \Leftrightarrow s = -2 \\ 3s = -3 & \Leftrightarrow s = -1 \\ -s = 1 & \Leftrightarrow s = -1 \end{cases} \left. \vphantom{\begin{matrix} 1s = -2 \\ 3s = -3 \\ -s = 1 \end{matrix}} \right\} \text{Die Richtungsvektoren sind Vielfache voneinander.}$$

Punktprobe mit P(11512) in h:

$$\begin{pmatrix} 7 \\ -1 \\ 4 \end{pmatrix} + s \cdot \begin{pmatrix} -1 \\ -3 \\ 1 \end{pmatrix} = \begin{pmatrix} 11 \\ 5 \\ 2 \end{pmatrix} \Leftrightarrow s \cdot \begin{pmatrix} -1 \\ -3 \\ 1 \end{pmatrix} = \begin{pmatrix} 4 \\ 6 \\ -2 \end{pmatrix}$$

$$\left. \begin{array}{l} \text{I} \quad -2s = 4 \quad \Leftrightarrow s = -2 \\ \text{II} \quad -3s = 6 \quad \Leftrightarrow s = -2 \\ \text{III} \quad s = -2 \end{array} \right\} \underline{\underline{P \in h}}$$

d.h. g und h sind zueinander parallel und identisch.

#### 5. Aufgabe:

a)  $g: \vec{x} = t \cdot \begin{pmatrix} -4 \\ 6 \\ 12 \end{pmatrix}$

$$t \cdot \begin{pmatrix} -4 \\ 6 \\ 12 \end{pmatrix} = \begin{pmatrix} -2 \\ 3 \\ 6 \end{pmatrix} \Rightarrow \begin{cases} -4t = -2 & \Leftrightarrow t = \frac{1}{2} \\ 6t = 3 & \Leftrightarrow t = \frac{1}{2} \\ 12t = 6 & \Leftrightarrow t = \frac{1}{2} \end{cases} \left. \vphantom{\begin{matrix} -4t = -2 \\ 6t = 3 \\ 12t = 6 \end{matrix}} \right\} \text{Die Richtungsvektoren sind Vielfache voneinander.}$$

Punktprobe mit A(01010) in h:

$$\begin{pmatrix} 0 \\ 0 \\ 5 \end{pmatrix} + s \cdot \begin{pmatrix} -1 \\ -3 \\ 6 \end{pmatrix} = \begin{pmatrix} 0 \\ 0 \\ 0 \end{pmatrix} \Leftrightarrow s \cdot \begin{pmatrix} -1 \\ -3 \\ 6 \end{pmatrix} = \begin{pmatrix} 0 \\ 0 \\ -5 \end{pmatrix}$$

$$\left. \begin{array}{l} \text{I} \quad -2s = 0 \quad \Leftrightarrow s = 0 \\ \text{II} \quad 3s = 0 \quad \Leftrightarrow s = 0 \\ \text{III} \quad 6s = -5 \quad \Leftrightarrow s = -\frac{5}{6} \end{array} \right\} \underline{\underline{A \notin h}}$$

d.h. g und h sind zueinander parallel und verschieden.

b)  $g: \vec{x} = \begin{pmatrix} 3 \\ 8 \\ 2 \end{pmatrix} + t \cdot \begin{pmatrix} 0 \\ -3 \\ 5 \end{pmatrix}$

$$t \cdot \begin{pmatrix} 0 \\ -3 \\ 5 \end{pmatrix} = \begin{pmatrix} -1 \\ 3 \\ 6 \end{pmatrix} \Rightarrow \begin{cases} 0t = -1 & \Leftrightarrow \text{Widerspruch} \\ -3t = 3 & \Leftrightarrow t = -1 \\ 5t = 6 & \Leftrightarrow t = \frac{6}{5} \end{cases} \left. \vphantom{\begin{matrix} 0t = -1 \\ -3t = 3 \\ 5t = 6 \end{matrix}} \right\} \text{Widerspruch; d.h. die Richtungsvektoren sind keine Vielfachen voneinander.}$$

d.h. g und h sind nicht zueinander parallel.

c)  $g: \vec{x} = \begin{pmatrix} -4 \\ 6 \\ 17 \end{pmatrix} + t \cdot \begin{pmatrix} 6 \\ -9 \\ -18 \end{pmatrix}$

$$t \cdot \begin{pmatrix} 6 \\ -9 \\ -18 \end{pmatrix} = \begin{pmatrix} -2 \\ 3 \\ 6 \end{pmatrix} \Rightarrow \begin{cases} 6t = -2 & \Leftrightarrow t = -\frac{1}{3} \\ -9t = 3 & \Leftrightarrow t = -\frac{1}{3} \\ -18t = 6 & \Leftrightarrow t = -\frac{1}{3} \end{cases} \left. \vphantom{\begin{matrix} 6t = -2 \\ -9t = 3 \\ -18t = 6 \end{matrix}} \right\} \text{Die Richtungsvektoren sind Vielfache voneinander.}$$

Punktprobe von A(-416117) in h:

$$\begin{pmatrix} 0 \\ 0 \\ 5 \end{pmatrix} + t \cdot \begin{pmatrix} -1 \\ -3 \\ 6 \end{pmatrix} = \begin{pmatrix} -4 \\ 6 \\ 17 \end{pmatrix} \Leftrightarrow t \cdot \begin{pmatrix} -1 \\ -3 \\ 6 \end{pmatrix} = \begin{pmatrix} -4 \\ 6 \\ 12 \end{pmatrix}$$

$$\left. \begin{array}{l} \text{I} \quad -2t = -4 \quad \Leftrightarrow t = 2 \\ \text{II} \quad 3t = 6 \quad \Leftrightarrow t = 2 \\ \text{III} \quad 6t = 12 \quad \Leftrightarrow t = 2 \end{array} \right\} \underline{\underline{A \in h}}$$

d.h. g und h sind zueinander parallel und identisch.

### 5. Aufgabe:

d)  $g: \vec{x} = \begin{pmatrix} 0 \\ 0 \\ 7 \end{pmatrix} + t \cdot \begin{pmatrix} 2 \\ -3 \\ -6 \end{pmatrix}$

$\cdot t \cdot \begin{pmatrix} 2 \\ -3 \\ -6 \end{pmatrix} = \begin{pmatrix} -2 \\ 3 \\ 6 \end{pmatrix} \Rightarrow \begin{matrix} 2t = -2 & \Leftrightarrow & t = -1 \\ -3t = 3 & \Leftrightarrow & t = -1 \\ -6t = 6 & \Leftrightarrow & t = -1 \end{matrix} \left. \vphantom{\begin{matrix} 2t = -2 \\ -3t = 3 \\ -6t = 6 \end{matrix}} \right\} \text{Die Richtungsvektoren sind Vielfache voneinander.}$

Punktprobe mit A(0|0|7) in h:  $\begin{pmatrix} 0 \\ 0 \\ 5 \end{pmatrix} + s \cdot \begin{pmatrix} -2 \\ 3 \\ 6 \end{pmatrix} = \begin{pmatrix} 0 \\ 0 \\ 7 \end{pmatrix} \Leftrightarrow s \cdot \begin{pmatrix} -2 \\ 3 \\ 6 \end{pmatrix} = \begin{pmatrix} 0 \\ 0 \\ 2 \end{pmatrix}$

$$\left. \begin{matrix} \text{I} & -2s = 0 & \Leftrightarrow & s = 0 \\ \text{II} & 3s = 0 & \Leftrightarrow & s = 0 \\ \text{III} & 6s = 2 & \Leftrightarrow & s = \frac{1}{3} \end{matrix} \right\} \underline{A \notin h}$$

d.h. g und h sind zueinander parallel und verschieden.

### 6. Aufgabe:

a)  $p: \vec{x} = \begin{pmatrix} 6 \\ 1 \\ -2 \end{pmatrix} + s \cdot \begin{pmatrix} 5 \\ -4 \\ 2 \end{pmatrix}$

b)  $B(0|0|x_3)$

$\vec{AB} = \begin{pmatrix} 0-10 \\ 0+8 \\ x_3+3 \end{pmatrix} = \begin{pmatrix} -10 \\ 8 \\ x_3+3 \end{pmatrix}$

$\cdot s \cdot \begin{pmatrix} 5 \\ -4 \\ 2 \end{pmatrix} = \begin{pmatrix} -10 \\ 8 \\ x_3+3 \end{pmatrix} \Rightarrow \begin{matrix} 5s = -10 & \Leftrightarrow & s = -2 \\ -4s = 8 & \Leftrightarrow & s = -2 \end{matrix}$

III  $-2 \cdot 2 = x_3 + 3 \Leftrightarrow -4 = x_3 + 3 \Leftrightarrow x_3 = -7$  d.h. B(0|0| -7)

c)  $\vec{OM}_{AB} = \begin{pmatrix} 2 \\ 1 \\ 5 \end{pmatrix} + \frac{1}{2} \cdot \begin{pmatrix} 8-2 \\ 9-1 \\ 13-5 \end{pmatrix} = \begin{pmatrix} 2+3 \\ 1+4 \\ 5+4 \end{pmatrix} = \begin{pmatrix} 5 \\ 5 \\ 9 \end{pmatrix}; \underline{M_{AB}(5|5|9)}$

$h: \vec{x} = \begin{pmatrix} 5 \\ 5 \\ 9 \end{pmatrix} + s \cdot \begin{pmatrix} 5 \\ -4 \\ 2 \end{pmatrix}$

### 7. Aufgabe:

$\cdot s \cdot \begin{pmatrix} 1 \\ 1 \\ -2 \end{pmatrix} = \begin{pmatrix} -2 \\ -2 \\ 4 \end{pmatrix} \Rightarrow \begin{matrix} s = -2 \\ s = -2 \\ -2s = 4 & \Leftrightarrow & s = -2 \end{matrix} \left. \vphantom{\begin{matrix} s = -2 \\ s = -2 \\ -2s = 4 \end{matrix}} \right\} \text{Die Richtungsvektoren sind Vielfache voneinander.}$

Punktprobe mit P(2|5|6) in h:  $\begin{pmatrix} 4 \\ 7 \\ 8 \end{pmatrix} + t \cdot \begin{pmatrix} -2 \\ -2 \\ 4 \end{pmatrix} = \begin{pmatrix} 2 \\ 5 \\ 6 \end{pmatrix} \Leftrightarrow t \cdot \begin{pmatrix} -2 \\ -2 \\ 4 \end{pmatrix} = \begin{pmatrix} -2 \\ -2 \\ -2 \end{pmatrix}$

$$\left. \begin{matrix} \text{I} & -2t = -2 & \Leftrightarrow & t = 1 \\ \text{II} & -2t = -2 & \Leftrightarrow & t = 1 \\ \text{III} & 4t = -2 & \Leftrightarrow & t = -\frac{1}{2} \end{matrix} \right\} \underline{P \notin h}$$

d.h. g und h sind zueinander parallel und verschieden.

Gleichung der Mittelparallelen m:

m besitzt als Stützpunkt den Mittelpunkt der Strecke der Stützvektoren von g und h:

$\vec{OM} = \begin{pmatrix} 2 \\ 5 \\ 6 \end{pmatrix} + \frac{1}{2} \cdot \begin{pmatrix} 4-2 \\ 7-5 \\ 8-6 \end{pmatrix} = \begin{pmatrix} 2+1 \\ 5+1 \\ 6+1 \end{pmatrix} = \begin{pmatrix} 3 \\ 6 \\ 7 \end{pmatrix}; M(3|6|7)$

BRUNNEN

$m: \vec{x} = \begin{pmatrix} 3 \\ 6 \\ 7 \end{pmatrix} + s \cdot \begin{pmatrix} 1 \\ 1 \\ -2 \end{pmatrix}$

## 8. Aufgabe / Test:

$$g: \vec{x} = \begin{pmatrix} 3 \\ 5 \\ 2 \end{pmatrix} + t \cdot \begin{pmatrix} 4 \\ 2 \\ -1 \end{pmatrix}$$

Punktprobe mit  $O(0|0|0)$  in  $g$ :  $\begin{pmatrix} 3 \\ 5 \\ 2 \end{pmatrix} + t \cdot \begin{pmatrix} 4 \\ 2 \\ -1 \end{pmatrix} = \begin{pmatrix} 0 \\ 0 \\ 0 \end{pmatrix} \Leftrightarrow t \cdot \begin{pmatrix} 4 \\ 2 \\ -1 \end{pmatrix} = \begin{pmatrix} -3 \\ -5 \\ -2 \end{pmatrix}$

$$\left. \begin{array}{l} \text{I} \quad 4t = -3 \Leftrightarrow t = -\frac{3}{4} \\ \text{II} \quad 2t = -5 \Leftrightarrow t = -\frac{5}{2} \\ \text{III} \quad -t = -2 \Leftrightarrow t = 2 \end{array} \right\} 0 \notin g$$

d.h.  $O$  liegt nicht auf  $g$ .

$$h: \vec{x} = t \cdot \begin{pmatrix} 4 \\ 2 \\ -1 \end{pmatrix}$$

## 9. Aufgabe:

$$a). \overrightarrow{OM_a} = \overrightarrow{OA} + \frac{1}{2} \overrightarrow{AB} = \begin{pmatrix} 1 \\ 1 \\ 1 \end{pmatrix} + \frac{1}{2} \cdot \begin{pmatrix} 9-1 \\ 3-1 \end{pmatrix} = \begin{pmatrix} 1+4 \\ 1+2 \\ 1+1 \end{pmatrix} = \begin{pmatrix} 5 \\ 3 \\ 2 \end{pmatrix}; \quad \underline{\underline{M_a(5|3|2)}}$$

$$\cdot \overrightarrow{OM_b} = \overrightarrow{OB} + \frac{1}{2} \overrightarrow{BC} = \begin{pmatrix} 9 \\ 5 \\ 3 \end{pmatrix} + \frac{1}{2} \cdot \begin{pmatrix} -3-9 \\ -1-5 \end{pmatrix} = \begin{pmatrix} 9-6 \\ 5-3 \\ 3+2 \end{pmatrix} = \begin{pmatrix} 3 \\ 2 \\ 5 \end{pmatrix}; \quad \underline{\underline{M_b(3|2|5)}}$$

$$\cdot \overrightarrow{OM_c} = \overrightarrow{OC} + \frac{1}{2} \overrightarrow{CD} = \begin{pmatrix} -3 \\ -1 \\ 2 \end{pmatrix} + \frac{1}{2} \cdot \begin{pmatrix} 3+3 \\ 5-1 \end{pmatrix} = \begin{pmatrix} -3+3 \\ -1+4 \\ 2+1 \end{pmatrix} = \begin{pmatrix} 0 \\ 3 \\ 3 \end{pmatrix}; \quad \underline{\underline{M_c(0|3|3)}}$$

$$\cdot \overrightarrow{OM_d} = \overrightarrow{OD} + \frac{1}{2} \overrightarrow{DA} = \begin{pmatrix} 3 \\ 2 \\ 5 \end{pmatrix} + \frac{1}{2} \cdot \begin{pmatrix} 1-3 \\ 1-1 \\ 1-5 \end{pmatrix} = \begin{pmatrix} 3-1 \\ 2-3 \\ 5-2 \end{pmatrix} = \begin{pmatrix} 2 \\ 4 \\ 3 \end{pmatrix}; \quad \underline{\underline{M_d(2|4|3)}}$$

$$\cdot \overrightarrow{M_a M_b} = \begin{pmatrix} 3-5 \\ 2-3 \\ 5-2 \end{pmatrix} = \begin{pmatrix} -2 \\ -1 \\ 3 \end{pmatrix}; \quad |\overrightarrow{M_a M_b}| = \sqrt{(-2)^2 + (-1)^2 + 3^2} = \sqrt{14}$$

$$\cdot \overrightarrow{M_d M_c} = \begin{pmatrix} 0-2 \\ 3-4 \\ 6-3 \end{pmatrix} = \begin{pmatrix} -2 \\ -1 \\ 3 \end{pmatrix}; \quad |\overrightarrow{M_d M_c}| = \sqrt{(-2)^2 + (-1)^2 + 3^2} = \sqrt{14}$$

$$\cdot \overrightarrow{M_b M_c} = \begin{pmatrix} 0-3 \\ 3-2 \\ 6-5 \end{pmatrix} = \begin{pmatrix} -3 \\ 1 \\ 1 \end{pmatrix}; \quad |\overrightarrow{M_b M_c}| = \sqrt{(-3)^2 + 1^2 + 1^2} = \sqrt{11}$$

$$\cdot \overrightarrow{M_a M_d} = \begin{pmatrix} 2-5 \\ 4-3 \\ 3-2 \end{pmatrix} = \begin{pmatrix} -3 \\ 1 \\ 1 \end{pmatrix}; \quad |\overrightarrow{M_a M_d}| = \sqrt{(-3)^2 + 1^2 + 1^2} = \sqrt{11}$$

$$\Rightarrow \overrightarrow{M_a M_b} = \overrightarrow{M_d M_c} = \begin{pmatrix} -2 \\ -1 \\ 3 \end{pmatrix}; \quad |\overrightarrow{M_a M_b}| = |\overrightarrow{M_d M_c}| = \sqrt{14}$$

$$\overrightarrow{M_b M_c} = \overrightarrow{M_a M_d} = \begin{pmatrix} -3 \\ 1 \\ 1 \end{pmatrix}; \quad |\overrightarrow{M_b M_c}| = |\overrightarrow{M_a M_d}| = \sqrt{11}$$

d.h. das Viereck  $M_a M_b M_c M_d$  ist ein Parallelogramm.

$$b). \overrightarrow{OM_a} = \overrightarrow{OA} + \frac{1}{2} \vec{a}$$

$$\cdot \overrightarrow{OM_b} = \overrightarrow{OB} + \frac{1}{2} \vec{b}$$

$$d.h. \overrightarrow{M_a M_b} = \overrightarrow{OB} + \frac{1}{2} \vec{b} - (\overrightarrow{OA} + \frac{1}{2} \vec{a})$$

$$\overrightarrow{M_a M_b} = \overrightarrow{OB} - \overrightarrow{OA} - \frac{1}{2} \vec{a} + \frac{1}{2} \vec{b}$$

$$\overrightarrow{M_a M_b} = \overrightarrow{AB} - \frac{1}{2} \vec{a} + \frac{1}{2} \vec{b}$$

$$\overrightarrow{M_a M_b} = \vec{a} - \frac{1}{2} \vec{a} + \frac{1}{2} \vec{b}$$

$$\underline{\underline{\overrightarrow{M_a M_b} = \frac{1}{2} \vec{a} + \frac{1}{2} \vec{b} = \frac{1}{2} \cdot (\vec{a} + \vec{b})}}$$

### 9. Aufgabe:

$$b) \cdot \overrightarrow{OM_d} = \overrightarrow{OA} - \frac{1}{2} \overrightarrow{d}$$

$$\cdot \overrightarrow{OM_c} = \overrightarrow{OD} - \frac{1}{2} \overrightarrow{c}$$

$$d.h. \overrightarrow{M_d M_c} = \overrightarrow{OD} - \frac{1}{2} \overrightarrow{c} - (\overrightarrow{OA} - \frac{1}{2} \overrightarrow{d})$$

$$\overrightarrow{M_d M_c} = \overrightarrow{OD} - \overrightarrow{OA} - \frac{1}{2} \overrightarrow{c} + \frac{1}{2} \overrightarrow{d}$$

$$\overrightarrow{M_d M_c} = \overrightarrow{AD} - \frac{1}{2} \overrightarrow{c} + \frac{1}{2} \overrightarrow{d}$$

$$\overrightarrow{M_d M_c} = -\overrightarrow{d} - \frac{1}{2} \overrightarrow{c} + \frac{1}{2} \overrightarrow{d}$$

$$\overrightarrow{M_d M_c} = -\frac{1}{2} \overrightarrow{c} - \frac{1}{2} \overrightarrow{d} = \underline{\underline{-\frac{1}{2} (\overrightarrow{c} + \overrightarrow{d})}}$$

$$\text{Außerdem gilt: } \left. \begin{array}{l} \text{I } \overrightarrow{AC} = \overrightarrow{a} + \overrightarrow{b} \\ \text{II } \overrightarrow{AC} = -\overrightarrow{c} - \overrightarrow{d} \end{array} \right\} \begin{array}{l} \overrightarrow{a} + \overrightarrow{b} = -\overrightarrow{c} - \overrightarrow{d} \\ \overrightarrow{a} + \overrightarrow{b} = -(\overrightarrow{c} + \overrightarrow{d}) \end{array}$$

$$\Rightarrow \underline{\underline{\overrightarrow{M_d M_c} = -\frac{1}{2} (\overrightarrow{c} + \overrightarrow{d}) = \frac{1}{2} (\overrightarrow{a} + \overrightarrow{b}) = \overrightarrow{M_a M_b}}} \quad \text{q.e.d.}$$

### Grundwissen Test

#### 10. Aufgabe:

$$a) \sqrt{x} = 15$$

$$x = 625$$

$$\underline{\underline{L = \{625\}}}$$

$$b) \sqrt{2x+1} = 5$$

$$2x+1 = 25$$

$$2x = 24$$

$$x = 12$$

$$\underline{\underline{L = \{12\}}}$$

$$c) \sqrt{x^2+1} = 2$$

$$x^2+1 = 4$$

$$x^2 = 3$$

$$|x| = \sqrt{3}$$

$$\underline{\underline{L = \{-\sqrt{3}; \sqrt{3}\}}}$$

$$d) \sqrt{x-5} = 5$$

$$x-5 = 25$$

$$x = 30$$

$$\underline{\underline{L = \{30\}}}$$

$$e) \sqrt{x} - 3 = 8$$

$$\sqrt{x} = 11$$

$$x = 121$$

$$\underline{\underline{L = \{121\}}}$$

$$f) \sqrt{x-5} + 2 = 3$$

$$\sqrt{x-5} = 1$$

$$x-5 = 1$$

$$x = 6$$

$$\underline{\underline{L = \{6\}}}$$

$$g) \sqrt{2x-1} = x \Leftrightarrow 2x-1 = x^2 \Leftrightarrow x^2 - 2x + 1 = 0 \Leftrightarrow (x-1)^2 = 0$$

$$\Leftrightarrow |x-1| = 0 \Leftrightarrow x = 1; \underline{\underline{L = \{1\}}}$$

$$h) \sqrt{x^2+13} = 7 \Leftrightarrow x^2+13 = 49 \Leftrightarrow x^2 = 36 \Leftrightarrow |x| = 6;$$

$$\underline{\underline{L = \{-6; 6\}}}$$